





臺北市 98 學年度智能障礙學生安置高職綜合職能科暨特殊教育學校

語文科試卷

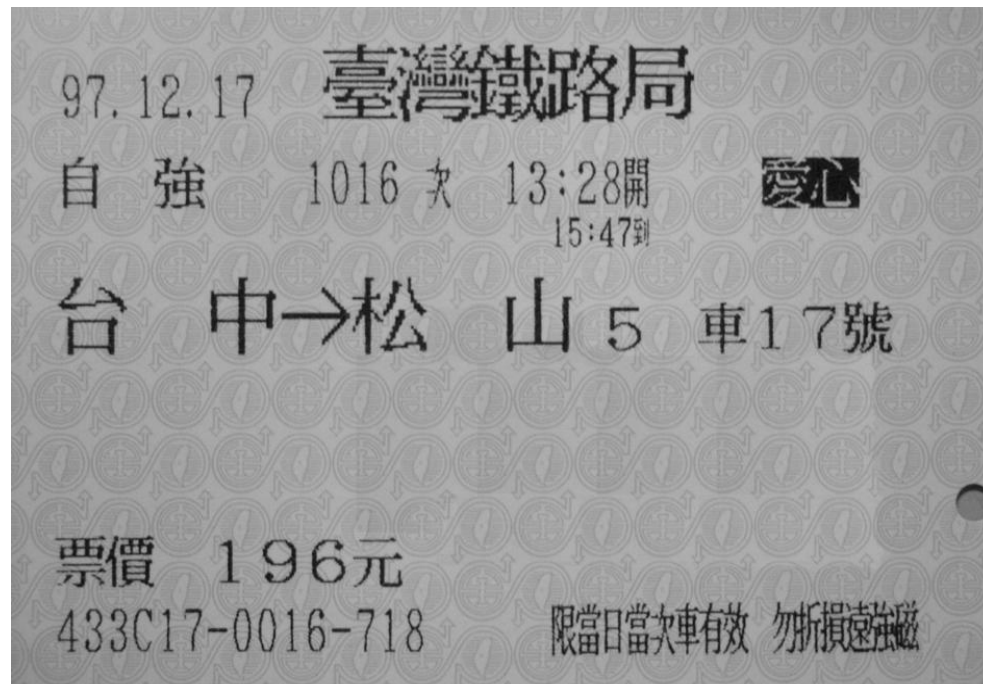
一、選擇題（每題 1 分，共 20 分）

1. () 履歷表上會有「待遇」的欄位，請問是指：①工作的薪水 ②等待的時間 ③以往的經驗
2. () 家中的農民曆上都會寫著「宜」、「忌」、「日沖」的字眼，請問「忌」是代表：
①適合 ②不適合 ③順利
3. () 適合在結婚場合說的祝福語是：①升官發財 ②一元復始 ③百年好合
4. () 以下哪一種證件可以用來購物？①健保卡 ②悠遊卡 ③信用卡
5. () 在邀請卡上看到「賢伉儷」3 個字，是代表：①兄弟 ②姐妹 ③夫妻
6. () 在百貨公司裡要找「洗手間」，就要注意哪個標示？①  ②  ③ 
7. () 老師稱讚小明說：「你人緣真好，總是能和同學打成一片。」這句話的「打成一片」是指：
①喜歡和同學打架 ②與同學相處融洽 ③興趣是打電動
8. () 「請問您怎麼稱呼？」是在詢問對方的：①名字 ②職業 ③來意
9. () 「風度翩翩」是指①氣質良好的樣子 ②穿著飄逸的樣子 ③蝴蝶飛舞的樣子
10. () 小美對著電腦大叫：「啊！電腦中毒了！這次的病毒太強了啦！」這裡的「病毒」是指：
①流行性感冒 ②殺蟲劑 ③錯誤的程式
11. () 「老師的先生」我們稱他為①師父 ②師公 ③師丈
12. () 任何市政教育問題都可撥打臺北市民當家熱線，那臺北市民當家熱線是：①110 ②119 ③1999
13. () 家中瓦斯熱水器應該安裝在①浴室裡面 ②瓦斯爐旁邊 ③通風處
14. ()  左圖是哪一類廣告？①商品特價 ②徵才廣告 ③房屋銷售
15. () 「雇主」通常是指①照顧你的人 ②老主顧 ③老闆
16. () 經濟不景氣，許多公司都沒有盈餘。請問「盈餘」是指①賺錢 ②虧損 ③不賺不賠
17. () 「要我相信小華說的話，除非太陽從西邊出來。」這句話是指
①小華不可靠 ②小華很誠實 ③小華不愛講話
18. () 「小美一時大意，所以吃虧上當。」請問「吃虧」是指①遭受損失②功虧一簣③吃了閉門羹
19. () 小明的大姑媽長年茹素，所以菜單上哪一道菜她絕對不會點？

①紅燒豆腐 ②五色菜捲 ③紹興醉雞

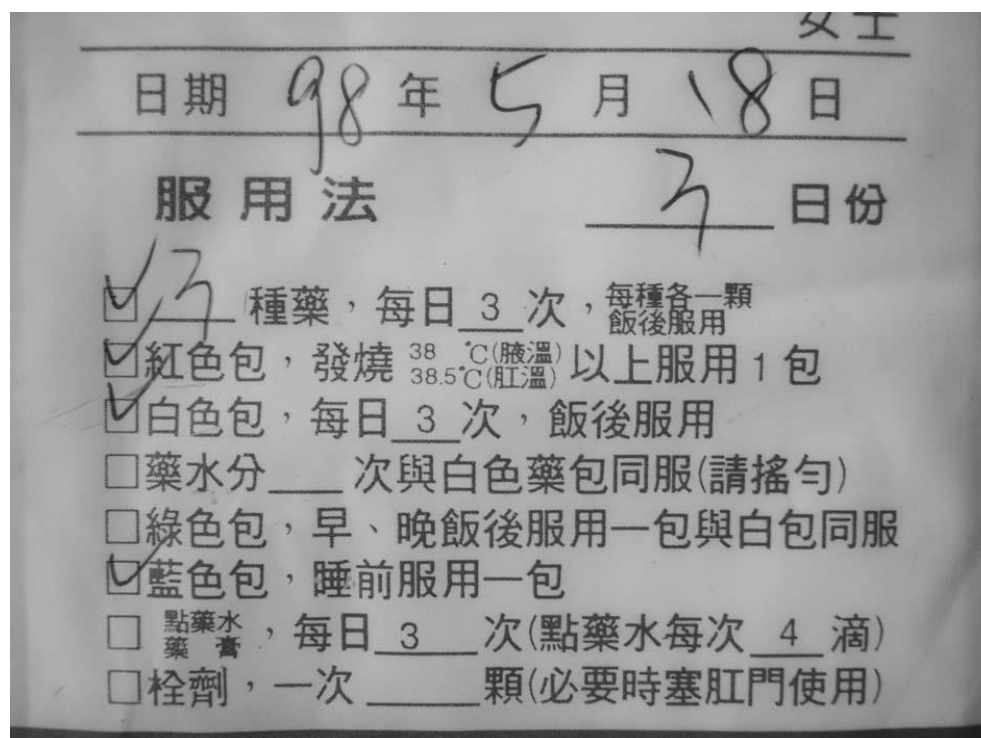
20. () 「生活週記」指的是多久寫一次的記事？①一天寫一次 ②七天寫一次 ③十天寫一次

二、請根據右圖回答問題（每題1分，共3分）



1. () 這是哪種交通工具的車票？ ①捷運 ②火車 ③高鐵
2. () 此種車種在目前國內火車中行駛的速度最：①快 ②慢 ③無法得知
3. () 這張車票的起站是：①台中 ②松山 ③鐵路局

三、請根據右圖回答問題（每題1分，共3分）



1. () 這是小美的藥袋，從封面可以判斷 小美可能是 ①腳扭傷 ②牙齒痛 ③感冒了
2. () 在什麼情形下，要服用紅色包？ ①睡前 ②飯後 ③發燒
3. () 如果小美每天都照醫師的要求吃藥的話，最慢什麼時候會把白色包及藍色包的藥吃完？

①5月18日 ②5月21日 ③6月18日

四、請根據下列的一段文章回答問題（每題1分，共3分）

說到臺北的歷史，自古就是多元文化的匯集地。目前發現最早的圓山遺址、芝山岩遺址，有著先民的遺跡與臺北「湖」的證據，接著平埔族在臺北盆地中奔馳，主要分佈在淡水、北投、八里等。

也許是地理位置屬於東亞島弧的一環，美麗的福爾摩沙，開始被更多人看見！西班牙從基隆到淡水，留下紅毛城，荷蘭人立刻由南部攻上來，與之後攻佔臺南的明朝鄭成功互望，直到中國清朝收復臺灣。透過清代的第一大港「艋舺」，位在中國南方的居民，嚮往臺灣的物產風饒，紛紛來臺開墾，泉州人、漳州人、粵人，與原本的平埔族搶地外，彼此之間也會械鬥，風格不同，留下建築特色都不一樣。

至清朝光緒年間，臺北城才算建築完成。現在所看見的臺北城門，便是清朝遺留下來的。中日甲午戰爭爆發，臺灣最後割讓給日本，開啟了臺灣日治時期，一直到二次大戰結束，國民政府來臺，臺灣歷史再翻過一頁新的多元文化。

至今日，外籍移民、外籍勞工越來越多，臺北的多元文化依舊多元融合、融合多元。【摘至臺北市觀光局網站】

1. () 從上文可以得知臺北的地形是①平原 ②盆地 ③丘陵
2. () 大家都以美麗的福爾摩沙來描寫臺灣，而「福爾摩沙」的意思是：①海島 ②陽光 ③美麗
3. () 現在所看見的臺北城門都是哪個朝代留下的？①明朝 ②清朝 ③光復後才蓋的

五、請根據下列的一段對話回答問題（每題1分，共3分）

小美：早安啊！

阿明：早安！大家都好準時哦！

小美：是啊！因為今天畢業旅行啊！遲到了就趕不及上車了。

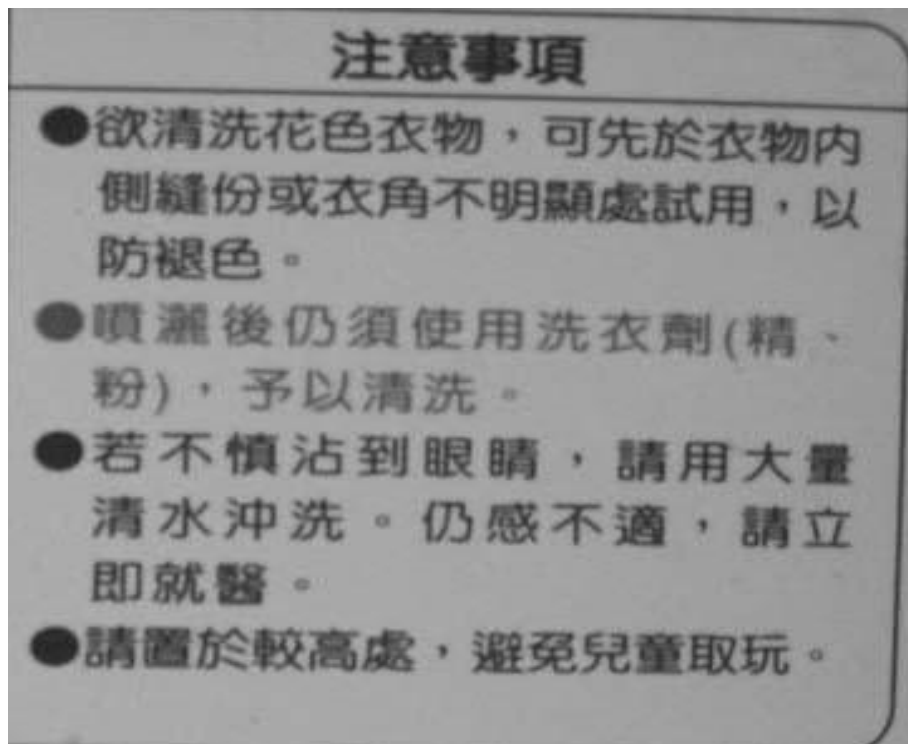
阿明：對啊！想到畢業之後大家都要去唸高中或高職了耶！好捨不得哦！

小美：沒關係啦！以後大家還是可以常常聯絡，可以打電話、用 E-mail 或是相約郊遊。

阿明：沒錯！只要常聯絡就不會忘記彼此了。

1. () 從對話中可以得知小美和阿明是①同事 ②同學 ③師生
2. () 從對話中可以得知他們的感情如何？①很融洽 ②互相討厭 ③不太熟
3. () 請問小美今年是幾年級的學生？①國小六年級 ②國中九年級 ③高中一年級

六、請根據下圖回答問題（每題 1 分，共 3 分）







1. () 想在超市買到這個商品，應該找哪一區塊？①生鮮食品 ②清潔用品 ③廚房器具
2. () 請問這瓶衣領精用完後，要如何處理？①資源回收 ②放入一般垃圾筒 ③丟進舊衣回收箱
3. () 若不慎沾到眼睛要如何處理？①眼睛閉起來就好 ②用大量清水沖洗 ③用碘酒消毒

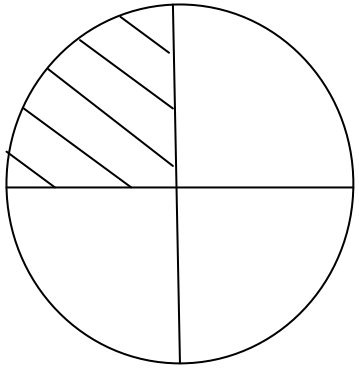
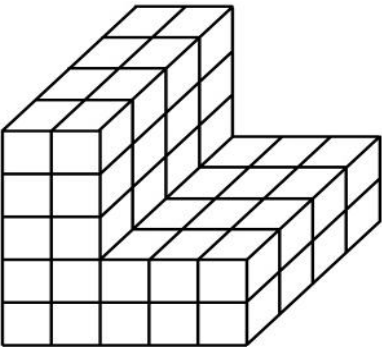



臺北市 98 學年度智能障礙學生安置高職綜合職能科暨特殊教育學校

數學科試卷

一、 選擇題（每題 1 分，共 14 分）

1. () 小麥在速食店打工，每天的薪資是五百多元，小麥每天的薪資可能是多少錢？
① 500 元 ② 550 元 ③ 650 元
2. () 阿成要買一台 799 元的 MP3 隨身聽，但他身上只有 100 元的鈔票，他最少要拿出幾張 100 元的鈔票才夠買？ ① 7 張 ② 8 張 ③ 9 張
3. () 一杯米可以煮出 2 碗飯，四杯米可以煮出多少碗飯？ ① 6 碗 ② 7 碗 ③ 8 碗
4. () 某店家打廣告「持消費券消費滿 1000 元打九折」，翔翔拿消費券買了 1000 元的商品，他需付多少錢？ ① 900 元 ② 950 元 ③ 1000 元
5. () 金蘭醬油的有效期限為 98 年 6 月 30 日，請問這瓶醬油是否已過期？
① 過期 ② 未過期 ③ 無法判斷
6. () 台北到高雄的高鐵全票票價約要 ① 150 元 ② 1500 元 ③ 15000 元
7. () 食譜寫著「將蜂蜜及醋以 1:4 的比例，調成蜂蜜醋」，所以當倒入 10 cc 的蜂蜜時，須倒入多少 cc 的醋？ ① 30 cc ② 40 cc ③ 50 cc
8. () 小美的體重是 45kg，小琪的體重是 6800g，請問誰比較重？
① 小美 ② 小琪 ③ 無法比較
9. () 下列哪一個城市氣溫最低？
① 台北：氣溫 20~25°C ② 日本-東京：氣溫 2~7°C ③ 芬蘭-赫爾辛基：-8~-3°C
10. ()  下列何者敘述正確？
①  最重 ②  最輕 ③  最輕
11. () 下午 4 點，再過幾小時就是晚上 12 點？ ① 7 小時後 ② 8 小時後 ③ 9 小時後
12. () 老張中了樂透彩，得到 2,685,743 元，他可成為 ① 百萬富翁 ② 千萬富翁 ③ 億萬富翁
13. () 小強先花 500 元買王建民紀念悠遊卡，之後上網拍賣以 800 元售出，請問小強賺或賠多少錢？ ① 賠 300 元 ② 賺 300 元 ③ 賺 1300 元
14. () 通常看一部電影的時間約為 ① 2 分鐘 ② 半小時 ③ 2 小時

二、 填充題（每題 1 分，共 6 分）

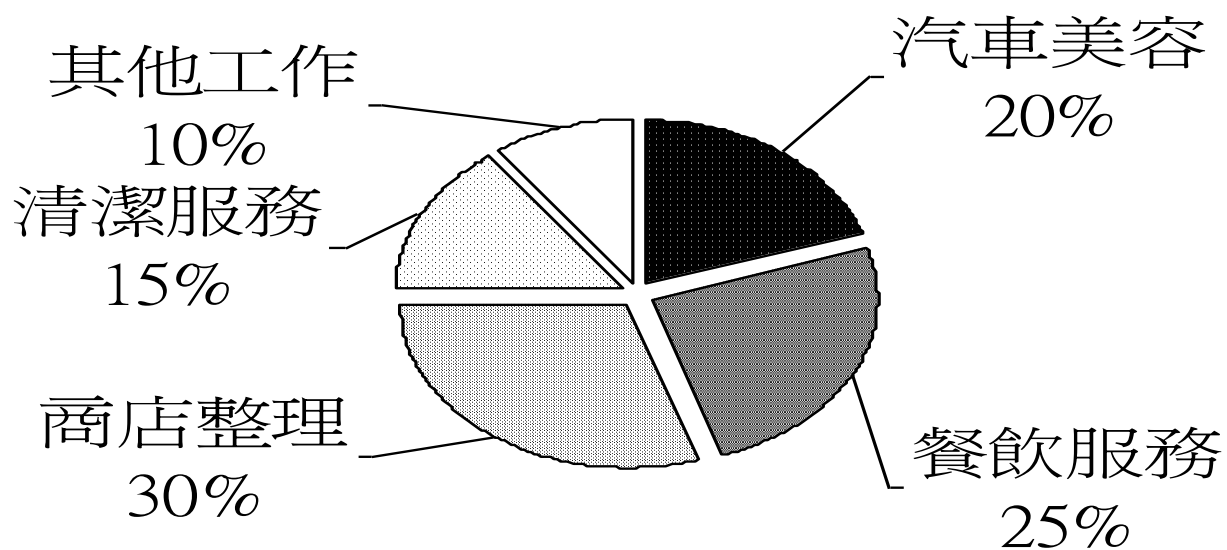
題號	圖 示	問 題
1		斜線部分是全部的幾分之幾？（ ）
2		數一數，共有幾塊小積木？（ ）塊
3		鉛筆的長度為（ ）cm
4		時鐘上的時刻較接近（ ）點
5		日曆的國曆日期為 （ ）年（ ）月 18 日，星期（ ）
6	<p>小明用 25 分鐘做了 20 隻紙鶴，小英花了 35 分鐘做了 30 隻紙鶴，請問小明和小英誰做得快？</p> <p style="text-align: right;">答：（ ）做得快</p>	

三、應用題組（每題 1 分，共 15 分）

【一】圖一是 97 年度某高職綜合職能科畢業生就業狀況的圓餅圖，請看圖回答下列問題：


1. 畢業生中從事「餐飲服務」業的比率是多少？（ ）%
2. 畢業生中從事（ ）業的人數最多。
3. 本圖中全部畢業生就業的比率是多少？（ ）%

97年度某高職綜職科畢業生就業狀況



【圖一】

【二】假設圖二是現在小雯手錶上的時間，請看圖回答下列問題：



圖二

1. 小雯手錶現在的時間是幾點幾分？（ ）
2. 小雯從現在開始休息 30 分鐘，請問「30 分鐘後」是幾點幾分？（ ）
3. 小雯「2 小時前」曾到便利超商買咖啡，請問小雯是幾點幾分到便利超商？（ ）

【三】下表是腰圍的尺碼對照表，請看圖回答下列問題：

尺碼 換算		XS		S		M		L		XL	
腰圍	公分	60	64	68	72	76	80	84	88	94	100
	英吋	23½	25	26½	28	30	31½	33	34½	37	39½

1. 從尺碼對照表來看，尺寸最小者的尺碼標示為 () (填入英文字母)。
2. 腰圍 23½ 英吋約是 () 公分。
3. 阿亮的腰圍是 85 公分，他應該穿何種尺碼的衣物比較合身？ () (填入英文字母)

【四】圖三是「貧民百萬富翁」的電影時刻表，請看圖回答下列問題：

1. 「信義華納威秀」戲院播映貧民百萬富翁的場次共有 () 場。
2. 哪個電影院播映時間有午夜場？ () 戲院
3. 君君要去「信義華納威秀」戲院看下午 3:00 播放的貧民百萬富翁，從家裡到戲院的路程是 30 分鐘，到戲院後又需要花 20 分鐘買票及零食，請問君君最晚下午 () 點 () 分就要出門，才來得及。



**信義
華納威秀**

10:15 AM
12:40 PM
03:00 PM
05:25 PM
07:50 PM
10:15 PM
12:40 AM

國賓戲院

10:40 AM
02:40 AM
06:40 PM

圖三

【五】下表是大家好牛肉麵店的點菜單，請看圖回答下列問題：

002021			
大家好牛肉麵			
地址：台北市林口街 105 號 電話：02-2727-4498			
種類	品名	價格	數量
麵類	清燉牛肉麵	100	
	紅燒牛肉麵	95	
	榨菜肉絲麵	55	
	酸辣麵	55	
	醉醬麵	55	
	四川擔擔麵	50	
湯類	清燉牛肉湯	80	
	紅燒牛肉湯	75	
	酸辣湯	30	
	貢丸湯	30	
小菜	燙青菜	30	
	涼拌小黃瓜	20	
	皮蛋豆腐	30	
合計			

- 四川擔擔麵一碗 50 元，大雄買了 4 碗要多少錢？（ ）元
- 阿力用 100 元買了一碗榨菜肉絲麵，老闆要找他多少元？（ ）元
- 阿福買了 3 碗酸辣麵和 2 碗貢丸湯，總共要花多少錢？（ ）元

臺北市 98 學年度智能障礙學生安置高職綜合職能科暨特殊教育學校

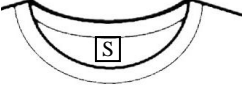
英文科試卷


一、請將適當的代號填入空格內（每題 1 分，共 5 分）

- (A) 2726-3421
- (B) 81/06/04
- (C) anbb@yahoo.com.tw
- (D) Joyce
- (E) Female
- (F) NO.3 Lane 207, Sec.2, Jhongcheng Rd.

Name		Gender		Photo
Tel		Birth		
E-mail	C			
Address				

二、選擇題（每題 1 分，共 20 分）

1. () 亞倫選擇了 ，請問衣服上的「S」這代表？
 (A) 尺寸大號的衣服 (B) 款式最新的衣服 (C) 尺吋小號的衣服 (D) 價格最貴的衣服
2. () 在「台灣製造」的商品，許多都會在商品印上英文
 (A) Made in Thailand (B) Made in Indonesia (C) Made in China (D) Made in Taiwan
3. () 「午安」的英文是：
 (A) Good evening (B) Good morning (C) Good night (D) Good afternoon
4. () 別人問候你時，你要說什麼？
 (A) I'm fine (B) What's up (C) Thank you (D) It's okay
5. () 表示道歉時，英文可以用？
 (A) I'm sorry (B) You're welcome (C) How are you (D) I'm fine
6. () 基本資料上常可以看到下列的英文字縮寫，請問哪一個是指身分證字號？
 (A) Tel. (B) Add. (C) Fax (D) ID
7. () 電器上的「電源鍵」常寫著：
 (A) Channel (B) Power (C) Volume (D) Record
8. () 我們常可以看到金錢的書寫方式，在數字前經常會加上 NT(如 NT 1,0000)，請問「NT」代表？ (A) 人民幣 (B) 新台幣 (C) 歐元 (D) 美金
9. () 我們常常可以看到 Merry Christmas 或 Merry X'mas 是指下面哪一個節日？
 (A) 聖誕節 (B) 萬聖節 (C) 復活節 (D) 新年

10. () 「Taxi」是指何種交通工具？
(A)公車 (B)計程車 (C)捷運 (D)火車
11. () 餐廳或商店早上「開門」時會掛上什麼牌子？
(A) off (B) open (C) on (D) close
12. () 爸爸開車到賣場去，把車停在 B2，請問這是指車子停在哪裡？
(A)2 樓 (B)第二停車場 (C)地下 2 樓 (D)頂樓
13. () 哪一個單字是指夏天？
(A) Summer (B) Spring (C) Winter (D) Autumn
14. () 上個星期天我和同學一起去_____唱歌。
(A)DVD (B)MVP (C)KTV (D)MTV
15. () 韓劇是目前最「IN」的連續劇，這是指韓劇：
(A)很難看 (B)很好看 (C)很多集 (D)很流行
16. () 「on sale」的意思是？
(A)營業中 (B)拍賣中 (C)新開張 (D)週年慶
17. () 防曬乳液包裝上有寫著「SPF」是指什麼呢？
(A)陽光係數 (B)紫外線係數 (C)美白係數 (D)防曬係數
18. ()  是網路上著名的
(A)電子網站信箱 (B)搜尋網站 (C)購物網站 (D)部落格網站
19. () 想找提款機，應該要找寫哪些字的地方？
(A) MSN (B) ATM (C) MRT (D) ATT
20. () 現在大家都在戴口罩以防止下列哪一種病毒入侵？
(A)SARS (B)H1N1 (C)H2N2 (D) AIDS

三、請在圖片下方填入正確的英文單字（每題 0.5 分，共 5 分）

例如：



bus

train	cup	watch	book	milk
cake	oranges	cell phone	T-shirt	toilet

