

臺北市111學年度智能障礙學生安置高級中等教育階段學校  
集中式特殊教育班服務群科學習能力評估

國文科評估卷

一、選擇題：40%，每題 4 分，請直接圈選答案上的數字符號

例題：到7-11時可以使用哪一種卡？(1)悠遊卡

(2)國民旅遊卡 (3)健保IC卡

請老師唸問題後讓學生有 15 秒鐘的作答時間，再唸下一題

1. 剛過完牛年，希望今年一切順利，讓你有 (1)萬馬奔騰 (2)福虎生豐 (3)扭轉乾坤 的感覺。
2. 臺北市政府提供的好康券是下列哪一種？(1)好食券 (2)國旅券 (3)熊好券。
3. 下列哪一種是完整的防疫實聯制作法？(1)用筆填寫自己的姓名與電話即可 (2)打開 line 掃描店家的 QR code (3)使用手機相機掃描店家的 QR code 並發出簡訊。
4. 2021 年政府發放振興五倍卷每人可以領多少錢？ (1)不用先付錢直接領 5,000 元 (2)自己付 1,000 元再領回 5,000 元 (3)自己付 600 元再領回 3,000 元。
5. 使用微波爐加熱時，可以放入 (1)鋁箔紙 (2)耐熱玻璃碗 (3)罐頭食品。
6. 現在已經晚上十一點了，如果明天晚上想去餐廳吃飯，怕餐廳客滿，下面哪一種方式才有可能現在就訂到位子？ (1)打電話訂位 (2)用 line 訂位 (3)上餐廳的網站訂位。
7. 大明經常為了一點雞毛蒜皮的小事就會大喊尖叫，真是一個愛 (1)草菅人命 (2)大吃一驚 (3)大驚小怪 的人啊!
8. 「大偉跟我是點頭之交」，這句話是說 (1)我跟大偉交情匪淺 (2)我跟大偉是泛泛之交 (3)我跟大偉很熟。
9. 大華的表現跟以前相比真的是「判若兩人」，是指大華 (1)跟以前很不一樣 (2)跟以前很像 (3)好像是兩個人。
10. 下列哪兩個國家最近正在戰爭？ (1)美國跟俄羅斯 (2)美國跟阿富汗 (3)烏克蘭跟俄羅斯。

一、生活應用題 60% (每題 4 分)，請老師不必唸題

(一) 根據下列一段文章的內容回答問題：(請直接圈選答案上的數字符號)

中央疫情指揮中心規定，民眾外出仍應全程戴口罩，但七大場合可不戴口罩，包括從事山林海濱活動、農林漁牧工作、泡溫泉及室內外運動、室內外拍照、家人同車以及談話性質工作；唱歌則須全程配戴口罩。

此外，雙鐵、客運等交通運具開放飲食；賣場、超市、市場開放試吃；宴席間開放逐桌敬酒敬茶，但實聯制、量體溫等仍需嚴格執行。國內五大機場和二大港口的篩檢站也從今起免篩檢和填寫健康聲明書。

醫院探病部分有條件開放，除了台北、新北、桃園及高雄市等四都，其餘各縣市長照機構、醫院均放寬探病及相關規則。探視者及訪客均須完成三劑疫苗接種十四天或三個月內曾確診並解除隔離，另需出具探視日前三天內的自費篩檢陰性證

1. 這則短文說下列哪一個城市可以到長照機構探病？ (1)台北市 (2)台中市 (3)高雄市。
2. 短文中說下列哪一項措施還是沒有開放？ (1)賣場試吃 (2)婚禮可以逐桌敬酒 (3)取消實聯制。
3. 短文中說下列哪一個場所或活動還是要戴口罩？ (1)室內拍照 (2)泡溫泉 (3)唱歌。
4. 短文中說下列哪一種人可以到新竹市的醫院探視病人？ (1)完成三劑疫苗注射的人 (2)過去曾確診但已解除隔離的人 (3)有探視前三日自費篩檢陰性證明的人。
5. 這則短文是下列哪一個單位發出的訊息？ (1)中央健保局 (2)中央疫情指揮中心 (3)醫院。

(二) 請閱讀下張圖文，再根據內容回答下列問題：(請直接圈選答案上的數字符號)



## 「2022竹子湖海芋季及繡球花季」走吧!我們去賞花、採花、吃野菜

 2022/03/07 ~ 2022/04/24

竹子湖海芋季3/18-4/24，竹子湖繡球花季5/20-6/19，精彩活動內容包含花田地景藝術打卡點、印卡站活動、海芋/繡球野餐Party(包含農園音樂會及花田餐桌響應)、生態人文導覽解說、農園體驗活動、宣傳旅宿業活動及遊程等。

竹子湖各特色農園營業資訊請上：

[https://www.google.com/maps/d/viewer?](https://www.google.com/maps/d/viewer?mid=1Z1jIHwOC61yD-)  
[mid=1Z1jIHwOC61yD-](https://www.google.com/maps/d/viewer?mid=1Z1jIHwOC61yD-)

[ULxcuzyG9uAQBoTaRgj&shorturl=1&ll=0%2C0&z=16](https://www.google.com/maps/d/viewer?mid=1Z1jIHwOC61yD-ULxcuzyG9uAQBoTaRgj&shorturl=1&ll=0%2C0&z=16)

<http://www.callalily.com.tw/>

1. 這則短文是有關 (1)農業 (2)人文 (3)旅遊的訊息。
2. 竹子湖在下面哪一個城市? (1)新北市 (2)臺北市 (3)圖片中沒有提到。
3. 如果你今天想要去竹子湖，可以觀賞到下面哪一種花? (1)海芋 (2)繡球花 (3)以上二種花都可以。
4. 這則短文提到竹子湖有哪些活動值得去? (1)花田餐桌 (2)農園體驗 (3)以上二種活動都有。

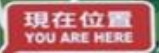


5. 這則短文最後那幾行藍色字是代表可以在哪裡看到詳細的活動資料？ (1)網站 (2)Line 社群 (3)臉書社群網站。

(三) 請閱讀下張圖文，再根據內容回答下列問題：(請直接圈選答案上的數字符號)



1. 這個圖片是一張 (1)地圖 (2)導覽圖 (3)方向圖。
2. 圖片中 **現在位置 YOU ARE HERE** 最靠近 (1)洗手間 (2)公車站 (3)辦公室。
3. 如果你面對著這個圖片，想要去迷宮花園，要往哪一個方向走？(1)北邊 (2)西邊 (3)東邊。

4. 如果你從  出發到園區參觀，最遠的園區是下面哪一個？ (1)美術園區 (2)台北玫瑰園 (3)圓山園區。
5. 從這張圖片的位置判斷，你現在可能是在下列哪一個園區？ (1)台北玫瑰園 (2)美術園區 (3)花之隧道。

臺北市111學年度智能障礙學生安置高級中等教育階段學校  
集中式特殊教育班服務群科學習能力評估


英文科評估卷


一、選擇題：40%，每題 4 分。請直接圈選答案上的數字符號。

例題：man 是指？(1) 男人 (2) 女人 (3) 小孩

題目：請老師唸問題後讓學生有15秒鐘的作答時間，再唸下一題

1. 我們做菜時最常用到的水果是 (1) lemon (2) watermelon (3) grape
2. 目前全球大流行的 COVID-19 新病毒株是 (1) Alpha (2) Delta (3) Omicron
3. 下面哪一個英文數字比較小？ (1) twenty (2) twelve (3) thirty



4. 手機螢幕上有很多這種  小圖片是代表 (1) App (2) QR code (3) McDonald
5. 這真是一個又甜又好吃的 (1) cake (2) coke (3) cook 啊!
6. 智慧型手機的英文名稱為 (1) cell phone (2) iPhone (3) smart phone
7. 媽媽說過年吃太多，胖了 2 公斤，現在買衣服要從 M 號改成買 (1) S (2) L (3) XL 號才穿得下了。
8. 之前學校安排醫療團隊為你打的疫苗是下列哪一種？(1) BNT (2) Moderna (3) AZ 疫苗。
9. 我們在 7-11 便利商店買完便當後，會用 (1) coffee machine (2) hot water filter (3) microwave oven 熱一下再吃。
10. 老師請全班同學都加入 (1) Face book (2) Line (3) Tel 的班級群組，這樣老師能隨時傳遞重要訊息給我們並跟我們互動。

二、請將下列大框中日常生活中常見的英文字詞或縮寫符號填入下列題目中的空格：40%，每格 4 分。

例題：我們寫字要用到 pen

題目：不必唸題目，讓學生自行閱讀作答。


pen、 Taipei City、 thirty、 QR code、 happy、 toilet、 CD、  
drink、 Mos Burger、 male、 Family Mart、 MTV、 App、  
ID、 female、 Tainan City、 thirsty、 sad、 MVP、 barcode

1. 我的口好\_\_\_\_\_，我要去\_\_\_\_\_買礦泉水喝。



2. 左邊這個圖片是代表\_\_\_\_\_。我們現在想要去\_\_\_\_\_買米漢堡吃，進店時要用手機掃描這個圖片。

3. 班際籃球賽我們贏了，大華得了全場最高的 40 分，是這場球賽的\_\_\_\_\_，全班同學都非常\_\_\_\_\_。



4. 點開手機螢幕上 台北通 這個\_\_\_\_\_，可以找到有關\_\_\_\_\_的訊息。

5. 大美的 \_\_\_\_\_ number 是 A231415268，可以看出她是一位\_\_\_\_\_。



三、日常應用題：20%，每題4分。請老師唸問題後，讓學生自行閱讀作答。



1. 請問洗髮精是在上面圖片中的 (1) 左邊 (2) 中間 (3) 右邊 的位置。
2. 上面圖片中，寫著30ML的是 (1) 洗髮精 (2) 潤絲精 (3) 身體乳液。
3. 上面圖片中，寫著來自法國巴黎的是 (1) 洗髮精 (2) 潤絲精 (3) 身體乳液。
4. 請寫出圖片中潤絲精的品牌名稱：\_\_\_\_\_。
5. 請寫出圖片中身體乳液的品牌名稱：\_\_\_\_\_。



臺北市111學年度智能障礙學生安置高級中等教育階段學校  
集中式特殊教育班服務群科學習能力評估

數學科評估卷

一、選擇題：20%，每題4分。請直接圈選答案上的數字符號。

題目：(請老師唸問題後讓學生有 15 秒鐘的作答時間，再唸下一題)

例題：到7-11時可以使用哪一種卡？ (1) 悠遊卡 (2) 國民旅遊卡  
(3) 健保IC卡

1. 如果你想做麵包吃，烤箱的溫度一般設定在攝氏 (1) 60 度 (2) 100 度  
(3) 200 度 比較適合。
2. 春季是指一年中的 (1) 12- 2 月 (2) 3-5 月 (3) 9-11 月。
3. 今天的午餐費用，大華花了 80 元，大中花了 75 元。請問如果二人都拿出了 100 元給餐廳老闆，誰找回來的錢較多？ (1) 大華 (2) 大中 (3) 二人一樣多。
4. 學校圖書館的小說類圖書中，有 30%是偵探小說、35%是歷史小說、20%是科幻小說，還有 15%是愛情小說。請問學校圖書館藏中，下列哪一類的小說數量較少？ (1) 科幻 (2) 歷史 (3) 偵探。
5. 國中學校運動會時，大美參加了 100 公尺賽跑的競賽項目，在 20 個參賽者中跑了第一名，她一共花了 (1) 50 秒 (2) 15 秒 (3) 5 秒 左右就跑到了終點。

二、計算題：20%，每題4分

1.  $77 + 16 =$

2.  $244 \div 4 =$

3.  $\frac{1}{2} - \frac{1}{4} =$

4. 
$$\begin{array}{r} 524 \\ \times \quad 5 \\ \hline \end{array}$$

5.  $Y - 6 = 8$   
 $Y =$

三、生活應用題：60%，每題4分，請直接圈選答案上的數字符號，或在空格內（\_\_\_\_\_）填寫正確答案。

(一) 請根據下列圖文回答下面的問題，直接圈選答案上的數字符號 (佔 20%，每題 4 分)。

【材 料】

雞蛋 (20 克/顆) 5顆

牛番茄 (60 克/顆) 3顆

蔥 40公克

【調 味 料】

高湯 50cc

番茄醬 3大匙

細砂糖 1大匙

鹽 1/4茶匙

太白粉水 1大匙

【做 法】

1. 番茄洗淨切小塊；蔥切小段；雞蛋加入鹽打勻備用。

2. 熱鍋，倒入油，加入作法1的蛋液快速炒勻至稍凝固後取出。

3. 鍋底留少許油，小火爆香蔥段、番茄塊，加入番茄醬及高湯、細砂糖煮開。

4. 以太白粉水勾芡後，放入作法2的炒蛋拌勻即可。

1. 從上面材料及作法，這個圖片是哪道菜的食譜？ (1) 青蔥炒蛋 (2) 牛肉炒蛋 (3) 番茄炒蛋。
2. 這道菜用的糖比鹽 (1) 多 (2) 少 (3) 一樣多。
3. 這道菜用的最多的材料是 (1) 牛番茄 (2) 蛋 (3) 蔥。
4. 這道菜要先炒哪一種材料？ (1) 牛番茄 (2) 蛋 (3) 蔥。
5. 這道菜的調味料用的最多的是 (1) 高湯 (2) 太白粉水 (3) 番茄醬。

(二) 請根據下列圖表回答圖表下面的問題：(佔 20%，每題 4 分)



1. 這張圖片是甚麼時候的疫情統計資料？ (1) 最近一個月內 (2) 去年四月 (3) 圖片中沒有提到。
2. 從國內疫情統計資料來看，新冠肺炎疫情發生至今，哪一種身分的人確診病例較多？ (1) 境外移入病例 (2) 本土病例 (3) 圖片中沒有提到。

注意：第 3~5 題請直接在\_\_\_\_\_內填寫答案（每格二分）

3. 圖片中，新冠肺炎疫情至今國內已經有\_\_\_\_\_確診，\_\_\_\_\_人死亡。
4. 圖片中，當天統計的境外移入病例有\_\_\_\_\_人，本土病例有\_\_\_\_\_人。
5. 圖片中新冠肺炎發生至今，臺北市死亡病例在各縣市的排名是第\_\_\_\_\_，與新北市相差\_\_\_\_\_人。



(三) 請根據下列題目回答所問的問題：(佔 20%，每題 4 分)

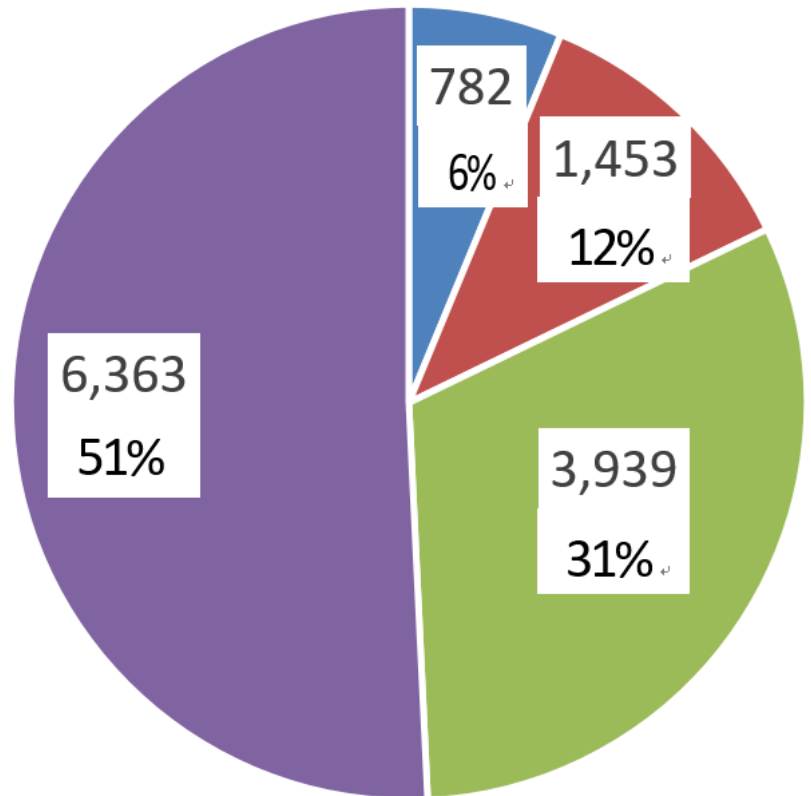
這是 2021/12/27 全國四大便利商店店數統計資料，由各便利商店網站資料取得，並畫成圓形的統計圖表。請根據圖表中的統計資料回答下列問題。

7-11 店數：6,363  
相較上個月 + 12 店數

全家店數：3,939  
相較上個月 - 12 店數

萊爾富店數：1,453  
相較上個月 - 16 店數

OK 店數：782  
相較上個月 - 28 店數



1. 圓形統計圖中，深橘紅色的部分代表的是哪一家便利商店？ (1) 7-11 (2) 全家 (3) 萊爾富。
2. 圓形統計圖中，藍色的部分代表的是哪一家便利商店？ (1) 全家 (2) 萊爾富 (3) OK。
3. 由圓形統計圖中，哪一家便利商店這個月增加了較多的店數？ (1) 7-11 (2) 全家 (3) OK。

**注意：第 4~5 題請直接在\_\_\_\_\_內填寫答案（每格二分）**

4. 由圓形統計圖中，可以知道全台第三大的便利商店是\_\_\_\_\_，一共開了\_\_\_\_\_家店面。
5. 由圓形統計圖中，全家便利商店佔了所有便利商店總店數的\_\_\_\_\_%，比 7-11 少了\_\_\_\_\_%。